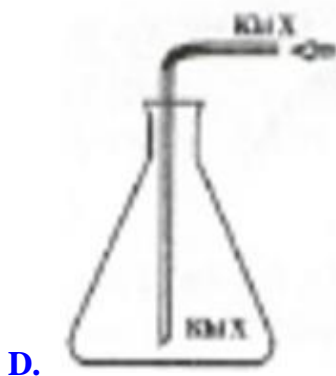
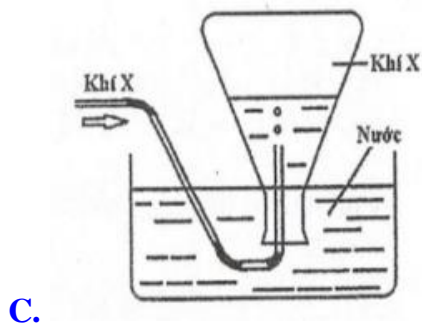
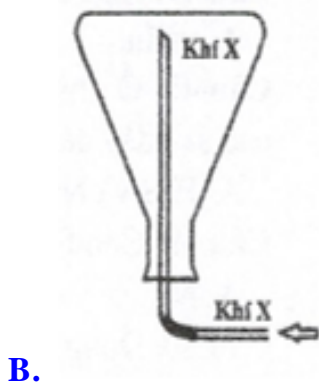
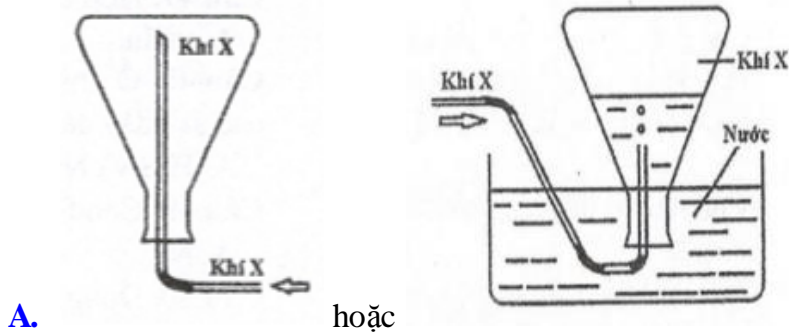




**Câu 10.** Khí X là thành phần chính của khí thiên nhiên. Hình vẽ nào sau đây mô tả đầy đủ nhất về thí nghiệm có thể tiến hành để thu khí X vào bình thu ?



Biết NTK của: H = 1; C = 12; N = 14; O = 16; Na= 23; Mg = 24; Al = 27; P = 31; S = 32;  
Cl = 35,5; K = 39; Ca = 40; Mn = 55; Fe = 56; Cu = 64; Zn = 65; As = 75; Ba = 137

-----Hết-----